



# संकल्प लोकसेवा

विरगंज, पर्सा (जिल्ला प्रहरी कार्यालय (SP Office) नजिक  
9828332224, 9746682017 www.sankalploksewa.edu.np

नायब सुब्बा प्रथम पत्रको बस्तुगत अभ्यास परिक्षा मोडेल सेट-८ (२०७९-०५-११)

पूर्णङ्कः १००

उतिर्णाङ्कः ४०

समयः ४५ मिनेट

१. विश्व इतिहासका विभिन्न शासकहरु र तिनले शासन गरेका राष्ट्र बारे समुह I र समुह II मा जोडा मिलाउनु होस् ।

समुह I	समुह II
a) निकोलस द्वितीय	1) इटली
b) राजा हेनरी	2) जर्मनी
c) कैजर विलियम	3) वेलायत
d) मुसोलीनी	4) रूस

- क) a-4,b-1,c-3,d-2      ख) a-4,b-3,c-2,d-1      ग) a-1,b-2,c-4,d-3      घ) a-3,b-1,c-2,d-4
२. पृथ्वीबाट देखिने सूर्य पछिको अर्को सबै भन्दा चम्किलो तारा कुन हो ?  
क) प्रोग्जीमा सेन्ताउरी      ख) अल्फा सेन्ताउरी      ग) साइरस      घ) ध्रुवतारा
३. विश्वको तेस्रो ठूलो महादेश कुन हो ?  
क) दक्षिण अमेरीका      ख) उत्तर अमेरीका      ग) युरोप      घ) अफ्रिका
४. मन्त्रीपरिषदले सुशासन आयोगको गठन गर्ने निर्णय कहिले गरेको थियो ?  
क) २५ असार २०७९      ख) २८ असार २०७९      ग) ३१ असार २०७९      घ) ३२ असार २०७९
५. हिउदमा ठण्डा र गीष्मा गर्मी हुनु कुन जलवायुको विशेषता हो ?  
क) मनसुनी वायु      ख) व्यापारिक वायु      ग) दुवै      घ) कुनै पनि होइन
६. सगरमाथा राष्ट्रिय निकुञ्ज कुन जिल्लामा पर्दछ ?  
क) सोलुखुम्बु      ख) मनाङ      ग) हुम्ला      घ) संखुवासभा
७. प्रश्न चिन्ह भएको स्थानमा चाहिएको चित्र विकल्पबाट छान्नुहोस् ।



- क) a      ख) b      ग) c      घ) d

८. चामलको मुल्यमा २०% कमी हुदा एक जना व्यक्तिले रु ६०० मा पहिलाको भन्दा १० केजी बढि चामल खरिद गर्छ भने मुल्यमा कमी आउदा चामलको मुल्य अहिले प्रति केजी कति रहेको छ ?  
क) रु ११.५      ख) रु १२.५      ग) रु १२      घ) रु १५
९. प्रजातन्त्र बहालीको लागि दोस्रो जनआन्दोलन कहिले देखि सुरु भएको थियो ?  
क) वि.स २०६२ चैत्र २२      ख) वि.स २०६२ चैत्र २४      ग) वि.स २०६२ चैत्र २६      घ) वि.स २०६२ चैत्र २७
१०. राणाकाल भन्दा पहिला नेपालमा कति जना प्रधानमन्त्री भएका थिए ?  
क) ४ जना      ख) ५ जना      ग) ६ जना      घ) ७ जना
११. नेपालको पहिलो अंग्रेजी विद्यालय कुन हो ?  
क) पद्मोदय मा.वी      ख) दरबार हाई स्कूल      ग) चन्द्र मिडल स्कूल      घ) परोपकार
१२. नेपालको कुल गृहस्थ उत्पादनमा कृषीको कति योगदान रहेको छ ?  
क) २६ प्रतिशत      ख) २७.९ प्रतिशत      ग) ३५.३ प्रतिशत      घ) ३७.२ प्रतिशत
१३. नेपालका सर्वजानीक संस्थाहरु बारे समुह १ र समुह २ मा जोडा मिलाउनुहोस् ।

समुह १	समुह २
a) औधोगिक क्षेत्रमा रहेका	1. ३ वटा
b) वित्तीय क्षेत्रमा रहेका	2. ६ वटा
c) व्यापारिक क्षेत्रमा रहेका	3. ७ वटा
d) जन उपयोगी क्षेत्रमा रहेका	4. ९ वटा

- क) a-3,b-2,c-4,d-1      ख) a-3,b-4,c-2,d-1      ग) a-1,b-4,c-2,d-3      घ) a-4,b-2,c-1,d-3

१४. एउटा रेडियो १५ % को नाफामा बेचियो । यदि त्यो रेडियो रु ६०० मा बेचिएको भए त्यसमा २० % नाफा हुने थियो त्यस रेडियोको खरिद मूल्य कति रहेको होला ?

- क) रु ५०० ख) रु ५५२ ग) रु ५७० घ) कुनै पनि होइन

१५. एउटा संगठनको २० जना कर्मचारीको औसत तलव रु १५०० रहेको छ । यहि मैनेजरको तलब समेत जोड्ने हो भने औसत तलबमा १०० ले वृद्धि हुन्छ भने मैनेजरको मासिक तलव कति रहेको छ ?

- क) रु २००० ख) रु २४०० ग) रु ३६०० घ) रु ४८००

१६. क्रम पुरा गर्नुहोस् ।

६, ९, १८, ४५, ?

- क) १३५ ख) ९९ ग) ११५ घ) १३८

१७. एकजना बुबाको उमेर ३५ वर्ष तथा उसको छोराको उमेर ११ वर्ष रहेको छ भने कति वर्ष पहिला बुबाको उमेर छोराको उमेर भन्दा पाँच गुणा बढि रहेको थियो ?

- क) ३ वर्ष ख) ५ वर्ष ग) २ वर्ष घ) ४ वर्ष

१८. समुहमा नमिल्ने पत्तालगाउनुहोस् ।

- क) कुकुर ख) विरालो ग) घोडा घ) अर्ना

१९. समुह I र समुह II मा जोडा मिलाउनुहोस् ।

समुह I	समुह II
a) तराईका जनाजाती	1) २३ वटा
b) भित्री मधेशका जनाजातीहरू	2) १० वटा
c) हिमाली क्षेत्रका जनाजातीहरू	3) १९ वटा
d) पहाडी क्षेत्रका जनाजातीहरू	4) ७ वटा

- क) a-2,b-4,c-1,d-3 ख) a-3,b-4,c-1,d-2 ग) a-2,b-4,c-3,d-1 घ) a-2,b-1,c-4,d-3


२०. जयन्तुम संकृतम आन्दोलन हुदा नेपालको प्रधानमन्त्रीको थिए ?

- क) मोहन शम्शेर ख) जुद्ध शम्शेर ग) पद्म शम्शेर घ) चन्द्र शम्शेर

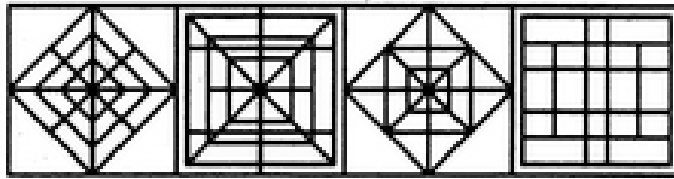
२१. जनगणना २०६८ अनुसार किरात धर्म मान्नेहरूको जनसंख्या कति प्रतिशत रहेको छ ?

- क) ३.१ प्रतिशत ख) ४.२ प्रतिशत ग) ४.९ प्रतिशत घ) ५.२ प्रतिशत

२२. (X) चित्र विकल्पहरूमा मध्ये कूनमा खादिएको छ पत्तालगाउनुहोस् ।



(X)



[A]

[B]

[C]

[D]

- क) A ख) B ग) C घ) D

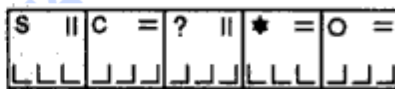
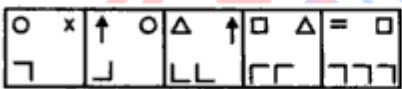
२३. सूर्य उदयको बेला एक जना केटा एक मैदानमा आफ्नो टाउको तल र खुट्टा माथि गरेर व्यायाम गर्दै थियो । यदि उसको दाँया हात पूर्व दिशामा रहेको छ भने त्यो केटाको मुख कुन दिशामा रहेको छ ?

- क) उत्तर ख) दक्षिण ग) पश्चिम घ) पूर्व

२४. यदि कुनै कोड भाषामा WORK लाई 4-12-9-16 लेखिन्छ भने सोहि भाषामा WOMAN लाई के लेखिन्छ ?

- क) 4-12-14-26-13 ख) 4-26-14-13-12 ग) 23-12-26-14-13 घ) 23-15-13-1-14

२५. क्रम पुरा गर्नुहोस् ।



- क) a ख) b ग) c घ) d

२६. महेश कुनै काम १० दिनमा तथा उमेश सोहि काम १५ दिनमा गर्न सक्छ । उमेशले कार्य गर्न सुरु गर्छ र ५ दिन पछि महेश पनि आएर काम गर्न थाल्छ । अब पुरै कार्य सम्पन्न गर्न कति समय लाग्ला ?

- क) ७ दिन ख) ९ दिन ग) ११ दिन घ) १३ दिन

२७. दिगो विकासको अवधारणा सम्बन्धी संयुक्त राष्ट्रमा प्रस्तुत गरिएको पहिलो प्रतिवेदन कुन हो ?

- क) एक मात्रा पृथ्वी ख) हाम्रो साभ्ना भविष्य ग) हाम्रो वातावरण घ) भावी पुस्ता

२८. नेपालमा टिसुकल्चर प्रविधिबाट तयार पारिएको पहिलो वस्तु कुन हो ?

- क) गोलभेडा ख) आलु ग) स्याउ घ) मकै

२९. ओलम्पिक खेल बारे तल दिइएको भनाई बारे बिचार गरि सहि उत्तर पत्तालगाउनुहोस् ।

१) पहिलो अधुनिक ओलम्पिक खेल ग्रीसको अलेकजेन्ड्रियमा सम्पन्न भएको थियो ।

२) हाल सम्म सम्पन्न ओलम्पिक खेलमा सबै भन्दा बढि स्वर्ण पदक जित्ने खेलाडी माइकल फेलेप्स हुन् ।

३) ओलम्पिक खेलको आयोजक शाहरको छनौट सयुक्त राष्ट्रको महासभाद्वारा गरिन्छ ।

क) १ र ३ मात्र सहि ख) १,२ र ३ सबै सहि ग) ३ मात्र सहि घ) २ मात्र सहि

३०. चिपको आन्दोलन केसँग सम्बन्धित रहेको छ ?

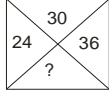
क) जलवायु परिवर्तन

ख) सूचना प्रविधि

ग) वातावरण संरक्षण

घ) भौतिक पूर्वधार निर्माण

३१. छोट्टिएका अक्षर वा अंक पत्ता लगाउनुस् ।



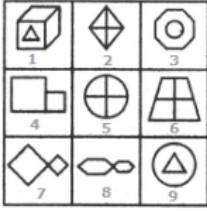
क) 28

ख) 40

ग) 58

घ) 46

३२. तल दिइएका चित्रहरूलाई तीनमा भएको समानताको आधारमा समुहमा मिलाउनु होस् ।



क) 1,2,4; 3,5,7; 6,8,9

ख) 1,3,9; 2,7,8; 4,5,6

ग) 1,3,9; 2,5,6; 4,7,8

घ) 1,3,6; 2,4,8; 5,7,9

३३. चिकित्सक : विरामी :: राजनीतिज्ञ :

क) जनता

ख) मतदाता

ग) पद

घ) धन

३४. यदि ' - ' को अर्थ ' ÷ ', + अर्थ ' × ', ÷ को अर्थ ' - ' र ' × ' को अर्थ ' + ' हुन्छ भने दिइएको मध्ये कुन समीकरण ठिक रहेको छ ?

क)  $6 \div 20 \times 12 + 7 - 1 = 70$

ख)  $2 + 20 - 12 \div 7 \times 1 = 62$

ग)  $6 - 20 \div 12 \times 7 + 1 = 57$

घ)  $6 + 20 - 12 \div 7 - 1 = 38$

३५. जैविक प्रविधिले सर्वप्रथम च्याउ उत्पादन गर्ने राष्ट्र कुन हो ?

क) अमेरीका

ख) जापान

ग) रूस

घ) चिन

३६. सार्कका १ जना महासचिव सहित कुल कतिजना निर्देशकहरू रहने व्यवस्था रहेको छ ?

क) 2

ख) 5

ग) 7

घ) 8

३७. स्थानीय सरकार संञ्चालन ऐन २०७४ मा भएको व्यवस्था अनुसार समुह क र समुह ख मा जोडा मिलाउनुहोस् ।

समुह क	समुह ख
१) हिमाली क्षेत्रको जिल्ला	a) २१ वटा
२) तराई क्षेत्रको जिल्ला	b) ७ वटा
३) पहाडी क्षेत्रको जिल्ला	c) २८ वटा
४) भित्री मधेशका जिल्ला	d) १८ वटा

क) 1-d,2-c,-3-a,4-b

ख) 1-a,2-d,3-c,4-b

ग) 1-b,2-d,3-a,4-c

घ) 1-d,2-b,3-c,4-a

३८. तल दिइएको चित्रमा भएको थोप्लाको जस्तै थोप्लाको स्थान विकल्पहरू मध्ये कुन मिल्छ पत्तालगाउनुहोस् ।



(X)

क) A



[A]

ख) B



[B]

ग) C



[C]

घ) D



[D]

३९. एक पोखरीमा कहि हासहरू निम्न निम्न क्रम बनाएर पौडिरहेको कि एक हासको अगाडि दुई हाँस र दई हाँसको पछाडि एक हास र दुई हाँसको बिच एक हाँस रहेको छ भने त्यस समुहमा न्युन्तम हाँसको संख्या कति रहको छ ?

क) ३

ख) ५

ग) ७

घ) ९

४०. अजयको स्थान उसको कक्षामा माथिबाट १२ औं छ । प्रशान्तको स्थान त्यहि कक्षामा तलबाट १८ औं स्थानमा छ जुन अजयभन्दा ८ स्थान पछाडि रहेको छ । त्यस कक्षामा कति जना रहेका छन् ?

क) ३५

ख) ३४

ग) ३६

घ) ३७

४१. सन् २०२२ मा सम्पन्न साफ यु-२० फुटवल च्याम्पियनसिपको उपाधि जित्ने राष्ट्र कुन हो ?

क) भारत

ख) बंगलादेश

ग) नेपाल

घ) पाकिस्तान

४२. नेपालको संविधान २०७२ अनुसार समुह क र समुह ख मा जोडा मिलाउनुहोस् ।

समुह क	समुह ख
a) भाग ४	१. संघिय व्यवस्थापन कार्यविधि
b) भाग ६	२. राज्यको संरचना र राज्यशक्तिको बाँडफाँड
c) भाग ९	३. राज्यको निर्देशक सिद्धान्त, नीति तथा दायित्व
d) भाग ५	४. राष्ट्रपति र उपराष्ट्रपति

क) a-2,b-4,c-1,d-3

ख) a-3,b-4,c-1,d-2

ग) a-1,b-4,c-2,d-3

घ) a-2,b-1,c-4,d-3

४३. नेपालको काश्मिर भनेर चिनिने जुम्ला कुन नदिको किनारमा अवस्थित छ?

क) राप्ती

ख) अरूण

ग) तिला

घ) कार्गाली

४४. नेपालको सबै भन्दा होचो ठाँउमा रहेको विमान स्थल कहा रहेको छ?

क) विराटनगर

ख) सिमरा

ग) राजविराज

घ) जनकपुर

४५. क्षेत्रफलको आधारमा दूलोबाट सानो क्रम मिलाउनुहोस् ।

१) खप्तड राष्ट्रिय निकुञ्ज

२) लाङडाङ राष्ट्रिय निकुञ्ज

३) चितवन राष्ट्रिय निकुञ्ज

४) मकालु वरूण राष्ट्रिय निकुञ्ज

क) ४,२,३,१

ख) २,४,३,१

ग) ४,२,१,३

घ) ४,३,२,१

४६. तल दिइएको कुन भेन चित्रले शिक्षक, लेखक र संगीतकारको सम्बन्धलाई दर्शाउछ ?



४७. विभिन्न आतंकि संगठन र तिनीहरु रहेका राष्ट्रबारे जोडा मिलाउनुहोस् ।

समुह क	समुह ख
a) अल सबाब	१) लेवानन
b) हिजबुल्लाह	२) यमन
c) आइ एस	३) अफगानिस्तान
d) तालिबान	४) सिरिया

a      b      c      d

क) १      २      ३      ४

ख) ३      ४      १      २

ग) २      १      ४      ३

घ) २      ४      १      ३

४८. ८ हजार भन्दा अग्लो १४ शिखरको दोहोर्याएर आरोहण गरी विश्व कीर्तिमान कायम राख्न सफल पर्वत आरोही को हुन् ?

क) निर्मल पूर्जा

ख) सानुशेर्पा

ग) लाकपा शेर्पा

घ) पेम्बा शेर्पा

४९. वि.स २०७८ फागुन सम्म कति स्थानिय तह राष्ट्रिय सडक सञ्जालसँग जोडिएका छन् ?

क) ७२०

ख) ७३२

ग) ७४०

घ) ७५३

५०. नेपालका विभिन्न प्रदेशमा रहेका स्थानीय तहहरुको संख्या विच समुह जोडा मिलाइ कोड सही उत्तर छान्नुहोस् ।

प्रदेश	स्थानीय तह संख्या
a) प्रदेश नं १	१) ११९
b) मधेश प्रदेश	२) १३७
c) बागमती प्रदेश	३) १३६
d) लुम्बिनी प्रदेश	४) १०९

कोड      a      b      c      d

a)      ३      २      १      ४

b)      २      ३      १      ४

c)      २      ३      ४      १

d)      १      ३      ४      २