



संकल्प लोकसेवा

विरगंज, पर्सा (जिल्ला प्रहरी कार्यालय (SP Office) नजिक
9828332224, 9746682017 www.sankalploksewa.edu.np

खरिदार / नायब सुब्बा प्रथम पत्रको बस्तुगत अभ्यास परिक्षा
(२०८०-०५-३०)

Set/Key :- A

पूर्णाङ्क १००

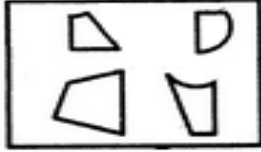
उतिर्णाङ्क : ४०

समय: ४५ मिनेट

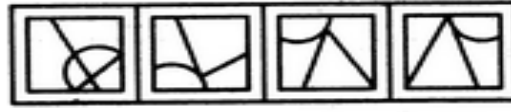
१. हाल नेपालमा कति जिल्लामा राष्ट्रिय प्रणालीको विद्युत्को पहुँच पुगेको छ ?
क) ७४ जिल्लामा ख) ७५ जिल्लामा ग) ७६ जिल्लामा घ) सबै जिल्लामा
२. सातौँ राष्ट्रिय कृषि गणना २०७८ को नतिजा कहिले सार्वजनिक भएको हो ?
क) विसं २०८० भदौ १९ ख) विसं २०८० भदौ २० ग) विसं २०८० भदौ २१ घ) विसं २०८० भदौ २२
३. नेपालीहरूको चार धाम र ति स्थानहरू रहेको जिल्लाहरू बरे समुह I र समुह II मा जोडा मिलाउनुहोस्।

समुह I	समुह II
a) बराह क्षेत्र	1.गुल्मी
b) रुरु क्षेत्र	2.मुस्ताङ
c) हरिहर क्षेत्र	3.सुनसरी
d) मुक्तिक्षेत्र	4.तनहु

- क) a-3,b-4,c-1,d-2 ख) a-3,b-1,c-4,d-2 ग) a-2,b-3,c-4,d-2 घ) a-4,b-1,c-2,d-3
४. उत्तर दक्षिण सबै भन्दा बढि लम्बाई भएको नेपालको जिल्ला कुन हो ?
क) गोर्खा ख) चितवन ग) धादिङ घ) रसुवा
५. दिइएको चित्र मिलाई कुन चित्र बनाउन सकिन्छ।



(X)



(1) (2) (3) (4)

- क) १ ख) २ ग) ३ घ) ४
६. आफ्नै भाइद्वारा मारिने राजा को हुन ?
क) विरेन्द्र शाह ख) रण बहादुर शाह ग) दिपेन्द्र शाह घ) बहादुर शाह
७. नेपाल सरकार र माओबादि बिच बृहत शान्ति सम्झौता कहिले भएको थियो ?
क) २०६२ मंसिर ५ ख) २०६३ मंसिर ५ ग) २०६४ मंसिर ५ घ) २०६५ मंसिर ५
८. प्रदेश र मुख्यमन्त्रीहरू बारे समुह क र समुह ख मा जोडा मिलाउनुहोस्।

समुह क	समुह ख
a) मधेश प्रदेश	1) लिला गिरि
b) बागमती प्रदेश	2) सरोज कुमार यादव
c) लुम्बिनी प्रदेश	3) कमल बहादुर शाह
d) सुदुर पश्चिम	4) शालिकराम जमर कट्टेल

a b c d

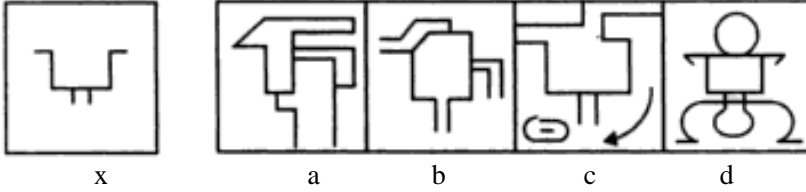
- क) a- 2, b-1, c-3, d- 4 ख) a- 2, b-1, c-4, d-3
ग) a- 2, b-4, c-1, d-3 घ) a- 4, b-1, c-2, d-3
९. अर्थ मन्त्रालय अर्न्तगत रहेका सर्वजानीक सस्थाहरूको सख्या कति रहेको छ ?
क) ८ वटा ख) ७ वटा ग) ६ वटा घ) ९ वटा
१०. तल दिइएका भनाई बारे विचार गरी विकल्पबाट सहि उत्तर पत्तालागउनु होस्।
१) म्यानबुकर अन्तराष्ट्रिय पुरस्कार २०२२ भारतीय लेखिका गीतांजली श्रीलाई प्रदान गरिएको छ।
२) अन्तराष्ट्रिय पर्वतीय चलचित्र महोत्सव (किम्फ) २०२२ मा उत्कृष्ट पर्वतीय फिल्मको अवार्ड द सेकेण्ड समिटले प्राप्त गरेको थियो।
क) १ र २ दुबै सहि ख) १ गलत २ सहि ग) २ गलत १ सहि घ) १ र २ दुबै सहि
११. मोरक्कोमा २५ सयभन्दा बढी मानिसको ज्यान जाने गरी ठुलो भूकम्प कहिले भएको हो ?
क) सन् २०२३ सेप्टेम्बर ७ ख) सन् २०२३ सेप्टेम्बर ८ ग) सन् २०२३ सेप्टेम्बर ९ घ) सन् २०२३ सेप्टेम्बर १०
१२. रातो ग्रह भनेर मंगल ग्रहलाई चिनिन्छ भने हरीयो ग्रह भनेर कुन ग्रहलाई चिनिन्छ?
क) वरुण ख) अरुण ग) वृहस्पति घ) मंगल

1

We offer following courses: लोक सेवा (अधिकृत, नासु, खरिदार, विधालय निरिक्षक, (वि नि), प्राविधिक सहायक (प्रा स) | शिक्षक सेवा (प्रा.वि, नि.मा, मा.वि.) | नेपाल प्रहरी (इन्स्पेक्टर, अ.स.ई, अनुसंधान अधिकृत, अनुसंधान सहायक) | बैंक सेवा (राष्ट्र बैंक, नेपाल बैंक, राष्ट्रिय बाणिज्य बैंक, कृषी विकास बैंक) नेपाल विधुत प्रधिकरण, नेपाल टेलीकम आदिको सम्पूर्ण तयारी कक्षाहरू।

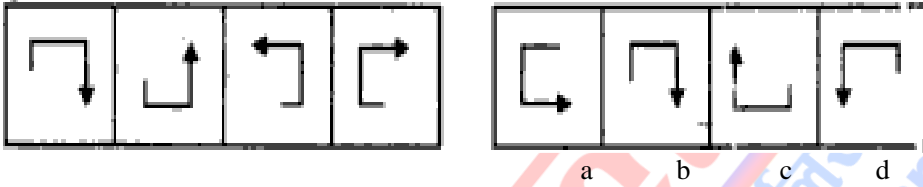
By: ASHOK SHAH

१३. एउटा सम्मेलनमा ८:३० मा पुगेर रुपेशलाई थाहा भयो कि उ एकजना व्यक्ति जो निर्धारित समय भन्दा ४० मिनेट ढिलो आएको छ उ भन्दा आधा घण्टा पहिला त्याहा पुगेको छ। सम्मेलनको निर्धारित समय कति होला ?
 क) ८ :०० बजे ख) ८:२० बजे ग) ८:१५ बजे घ) ८:४५ बजे
१४. संयुक्त राष्ट्रको औपचारिक भाषाहरु सुरक्षा परिषदका कतिवटा स्थाई सदस्यहरुको राष्ट्रिय भाषा हो ?
 क) १ ख) २ ग) ३ घ) ४
१५. दिइएको चित्र विकल्पहरुमध्ये कुनमा खादिएको छ पत्तालगाउनुहोस्।



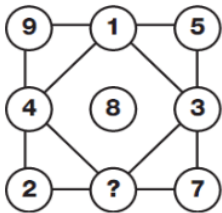
- क) a ख) b ग) c घ) d

१६. संविधानसभा अध्यक्ष एवं नेकपा (एमाले) का उपाध्यक्ष सुवासचन्द्र नेम्वाङको निधन कहिले भएको हो ?
 क) विसं २०८० भदौ २५ ख) विसं २०८० भदौ २६ ग) विसं २०८० भदौ २७ घ) विसं २०८० भदौ २८
१७. क्रम पुरा गर्नुहोस्।
 २, ४, ११, ३७, ? ७७१
 क) ११५ ख) १४८ ग) १५३ घ) ११८
१८. नेपालमा भूकम्प सुरक्षा दिवस कहिले देखि मनाउन थालीएको हो ?
 क) वि.स २०५० ख) वि.स २०५२ ग) वि.स २०५५ घ) वि.स २०६३
१९. क्रम पूरा गर्नुहोस्।



- क) a ख) b ग) c घ) d

२०. लाडोगा ताल कुन महादेशमा रहेको छ?
 क) अफ्रिका ख) उत्तर अमेरीका ग) युरोप घ) अष्ट्रेलिया
२१. जमनीले कुन देशमाथी आक्रमण गरि दोस्रो विश्व युद्धको सुरुवात गरेको थियो ?
 क) सर्बिया ख) पोल्याण्ड ग) अष्ट्रिया घ) रूस
२२. सात साथीहरुको एक लाइनमा A, D र F को बिचमा छ। C, F र G को बिचमा छ। G, C र E को बिचमा तथा D, B र A को बिचमा बसेको छ। यसमा सबै भन्दा बिचमा को रहेको छ ?
 क) D ख) C ग) A घ) F
२३. प्रश्न चिन्ह भएको स्थानमा आवश्यक संख्या विकल्पबाट पत्ता लगाउनुहोस्।



- क) ९ ख) ७ ग) ६ घ) १

२४. समुहमा नमिल्ने पत्तालगाउनुहोस्।
 क) विरगंज ख) जनकपुर ग) काठमाडौं घ) भरतपुर
२५. विभिन्न रोग तथा तिका उपचार विधि बारे समुह क र समुह ख मा जोडा मिलाउनुहोस्।

- | | |
|---------------------------|---------------------------|
| समुह क | समुह ख |
| a) केमो थेरापी | 1) क्यान्सर |
| b) एनजीयो प्लास्ट | 2) कुष्ठ रोग |
| c) हेमो डायलायसीस | 3) मृगौला |
| d) मल्टि ड्रग थेरापी | 4) मुटु |
| क) a -1, b -3, c -4, d -2 | ख) a -1, b -2, c -4, d -3 |
| ग) a -2, b -4, c -1, d -3 | घ) a -1, b -4, c -3, d -2 |

२६. हाल गोरखापत्र कति भाषामा सामग्री प्रकाशीत हुदै आएको छ ?

- क) ३५ वटा ख) ३८ वटा ग) ४० वटा घ) ४२ वटा

२७. निरज पूर्व दिशामा ३० मीटर हिड्यो । उ वाँया घुमेर २० मीटर हिड्यो । अन्त्यमा उ वाँया घुमेर ३० मीटर हिड्यो । अब उ आफ्नो सुरुको स्थानबाट कति टाढा र कुन दिशामा रहेको छ ?

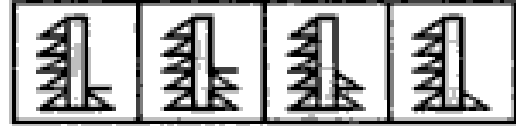
- क) २० मी उत्तर ख) ८० मी उत्तर ग) २० मी दक्षिण घ) ८० मी दक्षिण

२८. नेपालका विभिन्न राजमार्ग र ती राजमार्ग बनाउन सघाउने राष्ट्रको सम्बन्धमा समुह १ र समुह २ मा जोडा मिलाउनुहोस् ।

समुह १	समुह २
a) वि.पी राजमार्ग	1.भारत
b) पृथ्वी राजमार्ग	2.चीन
c) सिद्धार्थ राजमार्ग	3.वेलायत
d) धरान धनकुटा	4.जापान

- क) a-4,b-2,c-3,d-1 ख) a-4,b-1,c-2,d-3 ग) a-1,b-4,c-2,d-3 घ) a-4,b-2,c-1,d-3

२९. क्रम पुरा गर्नुहोस् ।



- क) a ख) b ग) c घ) d

३०. २०० जना मानिसको समुहलाई २४ हप्ताको लागि खाना सामग्री रहेका छन् । एक हप्तापछि ८० जना मानिस थप भए र प्रत्येक मानिसको खाना ९०० ग्रामबाट घटि ७५० ग्राम हुन्छ भने सो खाना कति दिन सम्म पुग्छ ?

- क) ३८ हप्ता ख) २९ हप्ता ग) ९३८ दिन घ) ९२८ दिन

३१. नेपालको एकमात्र नदि कालिगण्डकीमा पाइने सालीग्रामलाई कस्को अवतारको रूपमा पूजा गरिन्छ ?

- क) शिव ख) बुद्ध ग) विष्णु घ) इन्द्र

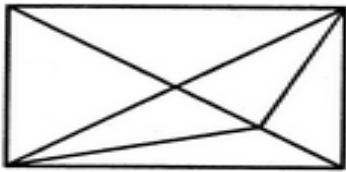
३२. आशा र अर्चनाको वर्तमान आयुको अनुपात ४:५ छ । चार वर्ष पछि उनीहरूको उमेरको योग ८० हुन्छ भने उनीहरूको उमेरको अनुपात कति होला ?

- क) ८: ९ ख) ९: ११ ग) अनुपात परिवर्तन हुदैन घ) सुचना अपर्याप्त

३३. रु १० मा ११ वाटा स्याउ खरिद गरि रु ११ मा १० वाटा स्याउ बेचियो भने यस व्यवपारमा के कस्तो नाफा वा नोक्सान हुन्छ ?

- क) १२.५ % नाफा ख) १२.५% नोक्सान ग) १८% नाफा घ) २१% नाफा

३४. दिइएको चित्रमा त्रिभुजको सख्या पत्तालगाउनुहोस् ।



- क) ११ ख) १३ ग) १५ घ) १७

३५. मदन पुरस्कार बारे तल दिइएको मध्ये कुन जोडा गलत रहेको छ ।

- क) २०७७ लिम्बुवानको एतिहासिक दस्तावेज भागीराम इडनाम
 ख) २०७६ महारानी चन्द्रप्रकाश बानिया
 ग) २०७५ शहि शब्द विजय पाण्डे
 घ) २०७४ योगमाया निलम कार्की निहारीका

३६. सविधान बारे तल दिइएको समुह १ र समुह २ मा जोडा मिलाउनुहोस् ।

समुह क	समुह ख
a) अनुसूचि ४	1. प्रदेशको अधिकार
b) अनुसूचि १	2. निशान छाप
c) अनुसूचि ३	3. प्रदेश र प्रदेशका जिल्लाहरू
d) अनुसूचि ६	4. राष्ट्रिय भण्डा

- क) a-3,b-4,c-1,d-2 ख) a-3,b-1,c-4,d-2 ग) a-1,b-4,c-2,d-3 घ) a-3,b-4,c-2,d-1

३७. यदि कुनै कोड भाषामा HANGER लाई TDIMCG लेखिन्छ भने KURESH लाई के लेखिन्छ ?

- क) MVTFUI ख) MSTGUJ ग) JRGQWJ घ) LUSFTI

३८. टाइम्स पर्सन अफ द यीयर २०२२ घोषित हुने व्यक्ति को हुन् ?

- क) भलादमिर पुतिन ख) एलन मस्क ग) भोलोडिमिर जेलेन्स्की घ) डोनाल्ड ट्रम्प

३९. पर्यटकिय दृष्टिकोण महत्वपूर्ण मानिने भेडेटार नेपालको कुन जिल्लामा पर्दछ ?

- क) भापा ख) ओखलढुङ्गा ग) इलाम घ) धनकुटा

४०. Bread → Bed, Flour → For, Wheat → ?

- क) Wat ख) Wet ग) What घ) Heat

४१. देहायको मध्ये कुन बनाइ सहि रहेको छ।

- १) विमस्टेककामा सार्कका ५ राष्ट्रहरू रहेका छन् ।
 २) विमस्टेकको जनसम्पर्क क्षेत्रको नेतृत्व नेपालले गर्दछ ।
 घ) विमस्टेकका अध्यक्षता सन् २०१४ मा नेपालले पहिलो पटक गरेको थियो ।
 क) १, २ र ३ सहि ख) १ र ३ सहि ग) २ र ३ सहि घ) १ मात्र सहि

४२. हैजाको भ्याक्सिन बनाउने वैज्ञानिक को हुन् ?

- क) एडर्वाड जेनर ख) रोवर्टकोच ग) लुई पास्चर घ) स्टिनर

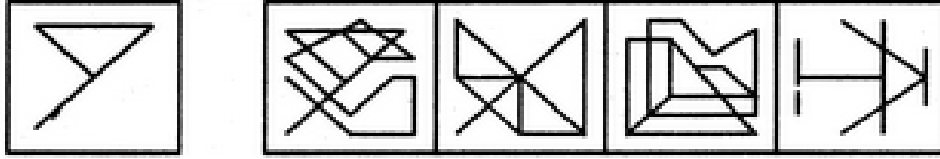
४३. पोलियोको भ्याक्सिन बनाउने पहिलो वैज्ञानिकको हुन् ?

- क) डा. जोन साल्क ख) डा. बर्नाड ग) एडर्वाड जेनर घ) रोबर्ट कोच

४४. बैज्ञानिकहरूको पनि बैज्ञानिक भनेर चिनिने वैज्ञानिक को हुन् ?

- क) न्युटन ख) इडिसन ग) अइन्सटाइन घ) आर्केमिडिज

४५. दिइएको चित्र विकल्पहरू मध्ये कुनमा खादिएको छ पत्तालागउनुहोस् ?

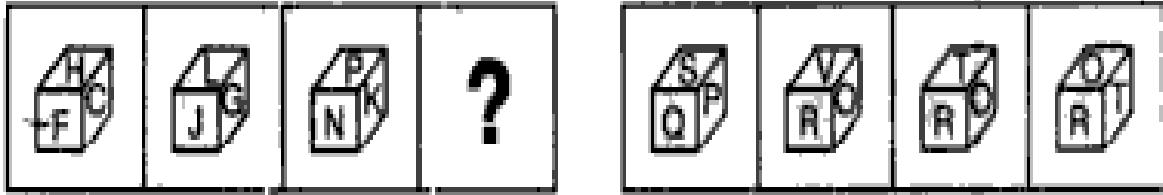


- क) a ख) b ग) c घ) d

४६. अन्तराष्ट्रिय पर्वतीय संगठन ICIMOD को स्थापना कहिले भएको थियो ?

- क) ३ डिसेम्बर १९८३ ख) १३ डिसेम्बर १९८५ ग) ५ डिसेम्बर १९८३ घ) १५ डिसेम्बर १९८५

४७. खालि स्थानमा चाहिएको चित्र विकल्पहरू मध्ये छान्नुहोस्।



- क) a ख) b ग) c घ) d

४८. यदि P भनेको x, R भनेको +, T भनेको ÷ र S भनेको -, हो भने 18 T 3 P 9 S 8 R 6 = ?

- क) $-1\frac{1}{2}$ ख) $\frac{3}{2}$ ग) 52 घ) 58

४९. दिइएको मध्ये गलत जोडा पत्ता लगाउनुहोस्।

- क) गोबर ग्यास → मिथेन
 ख) लाइटर → व्युटेन
 ग) बलुन → हाइड्रोजन
 घ) पानी शुद्धिकरण → ओजोन

५०. देहायको मध्ये कुन बनाई गलत/छन् ?

१. पहिलो विश्वयुद्धको समाप्ती पछि सयुक्त राष्ट्रको स्थापना भएको थियो ।
 २. UNO को चार्टर तयार गर्ने F.D Roosevelt हुन् ।
 ३. UNOको सदस्यता त्याग गर्ने पहिलो राष्ट्र ताइवान हो ।
 ४. UNOको आधिकारी भाषा ६ वटा रहेका छन् ।
 क) १,२ मात्र गलत ख) १, २, ३ मात्र गलत ग) ३, ४ मात्र गलत घ) २ मात्र गलत

***** सफलताको शुभकामना *****

परिक्षाका नतिजा १ दिन पछि हाम्रो वेबसाईट हेर्न सकिन्छ ।

<https://www.sankalploksewa.edu.np/weekly-result/>

वा दिइएको क्यूआर कोड स्कान गर्नुहोला ।

